



# 台灣中油股份有限公司

## 106年僱用人員甄試試題

甄試類別：事務類1（一般）（含睦鄰）、事務類2(限身心障礙身分人員報考)

專業科目：會計學概要、企管概要

### —作答注意事項—

- ① 應考人須按編定座位入座，作答前應先檢查答案卡、測驗入場通知書號碼、桌角號碼、應試科目是否相符，如有不同應立即請監試人員處理。使用非本人答案卡作答者，不予計分。
- ② 答案卡須保持清潔完整，請勿折疊、破壞或塗改測驗入場通知書號碼及條碼，亦不得書寫應考人姓名、測驗入場通知書號碼或與答案無關之任何文字或符號。
- ③ 本「試題本」為雙面，共100分，答案卡每人一張，不得要求增補。如有書寫不清、汙損或超出欄位外等情事，致機器掃描後無法清晰呈現作答結果者，其責任由應考人自行負責，不得提出異議。
- ④ 在答案卡上作答，答錯不倒扣；未作答者，不予計分；選擇題限用2B鉛筆劃記，答案要更改時，請用橡皮擦擦拭乾淨，再行作答，切不可留有黑色殘跡，或將答案卡汙損，也切勿使用立可帶或其他修正液。  
非選擇題應用藍、黑色原子筆或鋼筆作答，答案要更改時，限用立可帶修正後再行作答，不得使用修正液。
- ⑤ 本項測驗僅得使用簡易型電子計算器（不具任何財務函數、工程函數功能、儲存程式功能），但不得發出聲響；若應考人於測驗時將不符規定之電子計算器放置於桌面或使用，經勸阻無效，仍執意使用者，該節扣10分；該電子計算器並由監試人員保管至該節測驗結束後歸還。
- ⑥ 「答案卡」務必繳回給監試人員，未繳回者，該節以零分計。
- ⑦ 考試時間：90分鐘。

第一部分：選擇題（共 56 題，每題 1.25 分，共 70 分）

- (A)1.持有被投資公司50%的特別股，應分類為  
(A)透過損益按公允價值衡量之金融資產 (B)按成本衡量之金融資產  
(C)採用權益法之投資 (D)以上皆可
- (B)2.下列敘述何者正確？  
(A)董監事酬勞應以費用認列，員工酬勞則認列為盈餘分配，列入盈餘分配表項目中  
(B)我國公司法對於公開發行股票之規定，除閉鎖性股份有限公司外，國內公司不得發行無面值股票  
(C)股份有限公司之資產，係屬於全體股東所有  
(D)以現金溢價發行股票會產生「攪水股」的情況，使股東權益高估
- (D)3.甲公司06年底盤點資產負債表上現金及約當現金時，發現內容含有：郵票\$500、印花稅票\$300、員工借據\$10,000、銀行本票\$2,000、償債基金\$30,000、庫存現金\$8,000、銀行存款\$5,000、10天後到期的票據\$10,000，則甲公司正確的「現金及約當現金」的金額應為多少？  
(A) \$60,800 (B) \$50,000 (C) \$18,000 (D) \$15,000
- (C)4.甲公司04年底應收帳款餘額為\$200,000，備抵呆帳餘額\$6,000。05年度賒銷 \$400,000，賒銷退回\$20,000，帳款收現\$350,000，實際發生呆帳\$10,000，另收回去年已沖銷之帳款\$6,000，該公司採應收帳款餘額百分比法提列呆帳，且呆帳率和去年一樣，則下列何者錯誤？  
(A)呆帳率為3%  
(B) 05年應認列呆帳費用\$4,600  
(C) 05年調整前備抵呆帳餘額\$4,000(借餘)  
(D) 05年底應收帳款淨變現價值為\$213,400
- (A)5.某商店年初之資產總額為\$350,000，年底增加至\$470,000，負債增加\$150,000，年初之權益為\$250,000，則年底之權益為：  
(A) \$220,000 (B) \$320,000 (C) \$300,000 (D) \$200,000
- (D)6.高雄公司03年度之期末存貨若採個別認定法為\$55,000，先進先出法為\$50,000，加權平均法為\$67,000，移動加權平均法為\$70,000，何種方法將使03年保留盈餘最大？  
(A)個別認定法 (B)先進先出法 (C)加權平均法 (D)移動加權平均法
- (D)7.台東公司01年底購入機器成本\$80,000，估計殘值\$20,000，耐用年限3年，以直線法提列折舊。公司於03/7/1以\$37,000出售，並支付\$3,000拆除費用，則下列對售出機器的敘述何者正確：  
(A)借記拆除費用\$3,000 (B)借記累計折舊\$50,000  
(C)借記現金\$37,000 (D)借記處分資產損失\$16,000
- (A)8.下列何者不屬於資本公積？  
(A)庫藏股票 (B)股票發行溢價 (C)庫藏股票交易 (D)受贈資產

- (D)9. 台大公司年終結算獲利 \$ 120,000，但發現以下錯誤：現收佣金收入 \$ 3,000、誤記為現付佣金支出，期初存貨 \$ 4,900、誤記為 \$ 9,400，則正確淨利為：
- (A) \$ 109,500            (B) \$ 121,500            (C) \$ 118,500            (D) \$ 130,500
- (C)10. 楊梅公司有 8% 累積、全部參加特別股 5,000 股，每股面值 \$100 及普通股 80,000 股，每股面值 \$10。若已積欠特別股二年股利，本年宣告發放現金股利 \$197,000，則特別股與普通股股東各能分得多少股利？
- (A) 特別股 \$120,000，普通股 \$77,000            (B) 特別股 \$45,000，普通股 \$152,000  
(C) 特別股 \$125,000，普通股 \$72,000            (D) 特別股 \$85,000，普通股 \$112,000
- (B)11. 下列何者為「繼續經營假設」的應用？
- (A) 會計上假設貨幣價值穩定或變動不大可以忽略  
(B) 負債按到期日的遠近分為流動負債及非流動負債  
(C) 為了提供即時性資訊，會計期間不得超一年  
(D) 報導期間結束日須進行調整，計算損益，編製財務報表
- (A)12. 10月1日以 \$54,000 收回 3,000 股庫藏股，11月1日出售庫藏股 1,000 股，市價共 \$20,000；12月1日再出售庫藏 1,000 股，市價共 \$15,000。則上述交易發生後，本年度相關會計項目餘額，下列何者為非？
- (A) 資本公積-庫藏股票交易貸餘 \$2,000  
(B) 庫藏股票借餘 \$18,000  
(C) 累積盈虧借餘 \$1,000  
(D) 資本公積-庫藏股票餘額為 \$0
- (D)13. 假如以 \$2,000 設置零用金，在報銷費用並補充零用金 \$750 時，發現手存現金僅剩 \$1,200，則撥補零用金時分錄會貸記：
- (A) 零用金 \$750            (B) 零用金 \$800  
(C) 現金 \$750、現金短溢 \$50            (D) 現金 \$800
- (B)14. 台北公司 5 月 1 日收到客戶開立票據一紙面額 \$300,000，票面付息 10%，三個月到期，淡水公司於 6 月 1 日因急需資金，將此票據持向台灣銀行貼現，貼現率 12%，則下列敘述何者有誤？
- (A) 借：現金 \$301,350            (B) 借：利息費用 \$1,150  
(C) 貸：應收票據貼現負債 \$300,000            (D) 貸：利息收入 \$2,500
- (B)15. 甲公司年中倉庫不幸發生火災，燒毀大部分商品，清點存貨後尚餘 \$ 10,000。已知甲公司依成本加 25% 為售價，且知本期期初存貨 \$ 100,000，進貨 \$ 600,00，銷貨 \$ 520,000，銷貨退回 \$ 20,000，則火災損失為？
- (A) \$200,000            (B) \$290,000            (C) \$300,000            (D) \$325,000
- (D)16. 馬德里公司 04 年初購入機器成本 \$740,000，殘值 \$40,000，估計可用 5 年，採年數合計法提列折舊，06 年底調整前改採倍數餘額遞減法，且估計年限將延長 2 年，殘值 \$14,000，則 06 年折舊為何？
- (A) \$58,800            (B) \$61,200            (C) \$98,000            (D) \$128,000
- (A)17. 甲公司以汽車(成本 \$105,000，累計折舊 \$37,500，公平價值 \$60,000) 並支付現金 \$25,000，交換機器設備(成本 \$180,000，累計折舊 \$90,000)，若此交換具商業實質，則甲公司應認列資產交換損益為：
- (A) 損失 \$7,500            (B) 損失 \$5,000            (C) 利益 \$7,500            (D) 利益 \$5,000

(C)18. 甲公司於02年初發行五年期，面額\$100,000，票面利率10%之公司債，每年7/1及1/1各付息一次。

(n=10現值表)	<u>5%</u>	<u>4%</u>	<u>5%</u>	<u>4%</u>
複利現值	0.613913	0.675564	年金現值	7.721735
				8.110896

若發行當時之有效利率為8%，則發行價格為？

- (A) \$100,000      (B) \$93,835      (C) \$108,111      (D) \$101,946

(B)19. 下列有關無形資產的敘述，何者錯誤？

- (A) 商標權為非確定耐用年限之無形資產  
 (B) 每年支付權利金應列為無形資產  
 (C) 自行研發之專利權，其申請登記支出應列為專利權成本  
 (D) 無形資產之攤銷以經濟年限及法定年限二者較短者逐年攤銷

(D)20. 裕珍馨公司透過其他綜合損益按公允價值衡量之金融資產，其相關資料如下：

股票種類	成本	01年底市價	02年底市價
光泉公司	\$27,000	\$29,000	\$28,500
瑞穗公司	52,500	50,600	51,800
合計	\$79,500	\$79,600	\$80,300

02年底「透過其他綜合損益按公允價值衡量之金融資產」帳面金額為何？

- (A) \$80,000      (B) \$79,500      (C) \$79,600      (D) \$80,300

(C)21. 修理費誤記為機器設備，估計年限5年。此錯誤若於第二年底結帳後發現錯誤，則其更正分錄，下列何者正確？

- (A) 貸：累計折舊-機器設備      (B) 借：本期損益  
 (C) 借：追溯適用及追溯重編之影響數      (D) 借：修繕費

(C)22. 本公司年底接受政府附條件捐贈房地產一筆，土地公告地價\$200,000，公允價值\$600,000；房屋成本\$400,000，累計折舊\$60,000，公允價值\$500,000。公司辦理土地及房屋過戶登記手續費各\$10,000，則年底帳上項目餘額下列何者正確？

- (A) 土地成本\$590,000      (B) 房屋及建築成本\$330,000  
 (C) 遞延政府補助之利益\$1,080,000      (D) 政府補助之利益\$590,000

(B)23. 有關「長期應付票據折價」的敘述何者正確：

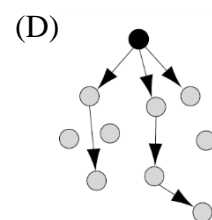
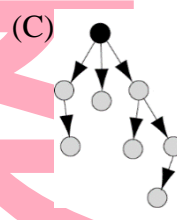
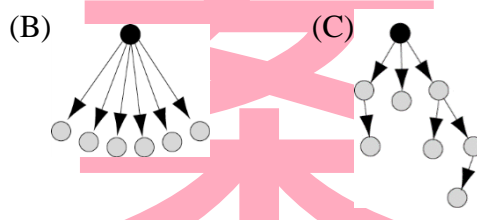
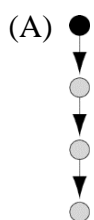
- (A) 為長期應付票據的加項  
 (B) 將逐期轉為利息費用  
 (C) 將逐期轉為應付票據  
 (D) 期末列示於綜合損益表作為營業費用

(C)24.雪梨公司7、8月份有關存款資料如下：

7月底之銀行存款調節表：		8月份資料：	
公司帳面餘額	\$379,000	銀行帳	公司帳
加：代收票據	36,000	存款	\$175,000
未兌現支票	21,000	簽發支票	156,800
減：手續費	1,000	代收票據	14,000
在途存款	15,000	手續費	800
銀行結單餘額	\$420,000	客票存款不足退票	19,200
			—

則8月底之下列金額有幾項正確？①在途存款\$10,000、②未兌現支票\$88,200、③調節前公司帳面餘額\$432,200、④正確存款餘額\$354,000

- (A)一項                      (B)二項                      (C)三項                      (D)四項
- (B)25.關渡公司06年初帳列資產總額\$6,000,000，無形資產總額\$300,000，負債總額\$2,000,000，流動負債總額\$700,000，若發行信用公司債，則其限額為：  
 (A)\$2,000,000              (B)\$1,850,000              (C)\$3,700,000              (D)\$2,500,000
- (A)26.甲公司銷售產品附有二年售後服務保證，預計保修費用為銷貨的4%，已知01年銷貨\$350,000，實際保證支出\$3,800，02年銷貨\$400,000，實際保證支出\$8,700，則02年底資產負債表上應列示之保固之負債準備餘額為？  
 (A)\$17,500              (B)\$10,300              (C)\$22,500              (D)\$30,000
- (D)27.下列何項資產流動性最大？  
 (A)存貨                      (B)預付費用                      (C)應收帳款                      (D)應收票據
- (C)28.公司01年4月1日預付二年保險費，02年度調整分錄借記預付保險費\$1,800，則01年底預付保險費餘額為  
 (A)\$1,800                      (B)\$5,400                      (C)\$9,000                      (D)\$14,400
- (A)29.下列何者不屬於策略規劃的層次？  
 (A)目標規劃                      (B)策略規劃                      (C)戰術規劃                      (D)作業規劃
- (D)30.ABC存貨控制法中A物料是？  
 (A)量少值少                      (B)量多值高                      (C)量多值少                      (D)量少值高
- (A)31.「管理者針對企業內部各項工作內容、性質及從事該項工作員工所應具備的專業知識、工作技能、相關經驗等，予以分析研究，並製成書面資料，以作為人力資源分配的依據。」是人力資源規劃中的何項內容？  
 (A)工作分析                      (B)工作說明書                      (C)工作規範                      (D)工作評價
- (B)32.非正式溝通中的閒談式溝通圖形為：(●：代表發訊者)



- (A)33.請將「規劃」的基本步驟按順序排出：①編列執行預算 ②訂立明確的目標 ③認清對企業有利的機會 ④實施檢討再規劃 ⑤評估方案的效益 ⑥擬訂輔助方案 ⑦選擇最可行的方案 ⑧建立規劃的前提⑨提出不同的可行方案
- (A) ③②⑧⑨⑤⑦⑥①④ (B) ②③⑧⑨⑤⑦⑥①④  
(C) ③②⑧⑨⑦⑤⑥④① (D) ②③⑧⑨⑤⑥⑦①④
- (C)34.下列何者非目標管理(MBO)之特性？
- (A)主管與部屬共同參與決定 (B)強調自我控制  
(C)不注重整體目標 (D)對人性假設為Y理論
- (B)35.下列關於決策情況之敘述，何者錯誤？
- (A)理性決策適用於確定情況  
(B)小中取大係屬於不確定情況中的樂觀準則  
(C)風險情況與不確定情況的差別在於是否可算出機率值  
(D)賽局理論常運用於衝突競爭情況
- (D)36.下列行銷觀念演進的先後順序，何者正確？
- (A)產品觀念→生產觀念→銷售觀念→行銷觀念→社會行銷觀念  
(B)產品觀念→生產觀念→行銷觀念→銷售觀念→社會行銷觀念  
(C)生產觀念→產品觀念→行銷觀念→銷售觀念→社會行銷觀念  
(D)生產觀念→產品觀念→銷售觀念→行銷觀念→社會行銷觀念
- (C)37.企業必須根據自身的功能、任務需求及所面對的環境穩定性進行組織設計。下列關於組織分權的敘述，何者不正確？
- (A)企業規模越小時，宜採集權政策  
(B)當外在環境不穩定時，宜採分權政策  
(C)行銷部門需要及時回應，宜採集權政策  
(D)產品越多樣化，宜採分權政策
- (A)38.全家便利商店看好消費者對日本商品的消費力，在自身欠缺通路資源下選擇跟日本轉運商tenso合作，日後消費者到推薦的日本網站購物，都可直接到全家門市取貨，開創超商跨境網購商機。請問全家便利商店採用的是SWOT分析中的何種策略？
- (A) WO策略 (B) SO策略 (C) WT策略 (D) ST策略
- (D)39.何者是績效評估常犯的錯誤？
- (A)比馬龍效應 (B)缺乏彈性 (C)幼獅效果 (D)趨中偏誤
- (B)40.關於領導者的權力來源，由組織賦予在職者執行其職務的權力是為：
- (A)歸屬權 (B)法定權 (C)專家權 (D)獎酬權
- (C)41.下列有關「零缺點計畫」(ZDP)的敘述，何者錯誤？
- (A)零缺點計畫是以零缺點為最終目標  
(B)零缺點計畫要建立「第一次就做對」的觀念  
(C)零缺點計畫是一種製造技術，而非是一種製造哲學  
(D)零缺點計畫把舊有「人難免會犯錯」的傳統觀念，轉變為「人可以不犯錯」的新觀念
- (D)42.企業常將一些業務外包給其他廠商，自己只保留擅長的核⼼部分以創造最高價值及保持最佳彈性，此為下列何種組織？
- (A)功能式組織 (B)矩陣式組織 (C)專案式組織 (D)網路式組織
- (A)43.根據 BCG 的分析，如果某一產業的成長率很低，但某一家公司的事業相對市場佔有率很高，則該事業稱為：
- (A)金牛型事業 (B)明星型事業 (C)苟延殘喘事業 (D)問題兒童事業

- (A)44. 諸多管理學者認為要有效做好企業管理，並非根據一些簡單的原理原則就行，必須要考慮許多情境因素，此一重要管理學派為下列何者？  
 (A) 權變理論 (B) 管理科學學派 (C) 科學管理學派 (D) 系統學派
- (B)45. 有關危機處理各階段的主要工作，下列何者正確？  
 (A) 潛伏期：訂定危機應變計畫、成立通報系統  
 (B) 爆發期：成立危機處理小組、進行談判溝通  
 (C) 善後期：協調部門任務、建立危機資料庫  
 (D) 解決期：公開處理過程、進行善後檢討
- (C)46. 下列何者不屬於赫茲伯格 (Herzberg) 兩因子理論的保健因子 (hygiene factors)？  
 (A) 薪資 (B) 個人生活 (C) 成就感 (D) 工作環境
- (D)47. 「決策樹」通常在何種決策情況被利用以作為決策的工具？  
 (A) 確定情況 (B) 不確定情況 (C) 衝突競爭情況 (D) 風險情況
- (D)48. 下列哪一種資訊管理方式是指將企業內所有交易系統整合為一，藉由追蹤交易過程的各個環節，把企業的有限資源，作最佳化的應用與調度，並提供企業作為決策的參考？  
 (A) MIS (B) DSS (C) SCM (D) ERP
- (A)49. 有關控制的技術與方法，下列敘述何者錯誤？  
 (A) 甘特圖 (Gantt chart) 的縱軸代表「時間」項目  
 (B) 經濟採購量 (EOQ) 是使總成本最低的訂購量  
 (C) 要徑法 (CPM)、計畫評核術 (PERT) 基本上都是利用網狀圖，來呈現計畫內各部分活動及先後關係與所需時間  
 (D) 及時存貨控制 (JIT) 是將存貨降到最低水準，而生產線上各種需要的零件材料都是及時供應
- (C)50. 下列何者屬於長期償債比率？  
 (A) 流動比率 (B) 速動比率 (C) 負債比率 (D) 總資產周轉率
- (C)51. 依賀賽 (Hersey)、布蘭查德 (Blanchard) 的情境領導理論，下列敘述何者正確？  
 (A) 低關係低任務導向採推銷型 (B) 高關係高任務導向採告知型  
 (C) 高關係低任務導向採參與型 (D) 低關係高任務導向採授權型
- (A)52. 知名連鎖零售總部規定旗下零售商店必須透過網際網路串聯，進行統一的採購與配送，若依電子商務的經營模式而言，是屬於：  
 (A) B to B 模式 (B) B to C 模式 (C) C to B 模式 (D) C to C 模式
- (C)53. 所謂的「以偏概全」是指在績效評估中，所出現的哪一種錯誤？  
 (A) 寬嚴問題 (B) 集中趨勢 (C) 暈輪效應 (D) 主管的私心
- (B)54. 「很多企業為了增進員工的技能或專業能力，資助員工於工作之餘到學術機構深造。」依據以上說明，屬於哪一種類的教育訓練？  
 (A) 職前訓練 (B) 在職訓練 (C) 職外訓練 (D) 委外訓練
- (B)55. 組織設計的內容不包括：  
 (A) 工作職能設計 (B) 管理設計 (C) 組織結構設計 (D) 工作流程設計
- (C)56. 亦可被稱為「科層學派」，強調以制度取代人治的管理方法是？  
 (A) 科學管理學派 (B) 管理程序學派 (C) 官僚學派 (D) 行為科學學派

## 第二部分：填空題（共 15 格，每格 2 分，共 30 分）

1. 公司期末存貨採零售價法估計，甲商品原售價\$150，因配合公司周年慶促銷，調整售

價至\$120，之後適逢季節折扣將售價調至\$140。則淨減價為\$ (1) 10。

- 乙公司流動負債\$100,000，流動比率為3，已知流動負債低估\$50,000，則正確之流動比率為 (2) 2。
- 芬園公司08年12月1日發行面額\$100,000，五年期公司債，每年6月1日及12月1日為付息日，折價採利息法攤銷，其攤銷表如下：

日期	票面利息	利息費用	折價攤銷數	帳面價值
09/6/1	\$4,000	?	\$746	?
09/12/1	?	?	784	96,454

則：(1) 09/6/1利息費用為： (3) \$ 4,746

(2)發行價格為： (4) \$ 94,924

- 本年度普通股每股盈餘為\$2，年底普通股收盤價為\$26，每股帳面金額為\$20，則年底普通股之「本益比」為： (5) 13
- 甲公司05年度股份發行資料如下：  
特別股7%累積，面額\$10，全年初流通在外10,000股。  
普通股面額\$10，  
1/1 流通在外 50,000股  
3/1 發放股票股利 10%  
6/1 購買庫藏股 6,000股  
9/1 出售庫藏股 3,000股  
公司積欠特別股3年股利，05年度淨損\$150,500，則普通股每股盈餘 (6) 3元 (虧損) 元。
- 公司買回庫藏股票數量，不得超過該公司已發行股份總數之 (7) 5 %。
- 新店公司04、05年期末存貨成本分別為\$90,000、\$180,000，其淨變現價值分別為\$70,000、\$190,000，則05年底存貨評價分錄應借記 (8) 備抵存貨跌價\$ 20,000。
- 對企業間有關結合、聯合、獨佔等行為有相關的規定，近似於美國的「反托拉斯法」，又有「經濟憲法」之稱的是 (9) 公平交易法。
- 所謂策略金三角，核心是策略，三個角分別是環境、資源與 (10) 企業目標。
- 將企業的個性或特色，透過行為、商標、符號、色彩、圖案等之規劃設計，傳達給外界知悉，使外界產生固定印象，稱為 (11) 企業識別系統。
- 品質管制中有品管七大手法，其中特性要因圖，又稱為石川圖，又稱為 (12) 魚骨圖。
- 阿明開了一家彩券行販賣樂透彩券，彩券每張售價為50元，每張彩券之單位變動成本為46元，若該店每月的固定成本為2萬元，則每月要銷售 (13) 5,000 張彩券，才能達到損益兩平 (Break-even)。
- 某高級飾品經銷商每年飾品之需求量為2500個，若每個飾品的年持有成本是100元，訂購一次的成本是50元。請問其飾品之經濟訂購量 (EOQ) 為 (14) 50 個。
- 「競爭者都已進入市場，並呈現競爭白熱化的現象，由於競爭激烈，難免有削價情事發生，所以各家企業利潤逐漸下降」；以上現象是說明已進入產品生命週期的 (15) 成熟 期。